



Prénom :

Date :

Connaître les nombres de 20 à 39

Nombres et calculs

1. Complète la file numérique.


19	24	28	31
----	-------	-------	-------	-------	----	-------	-------	-------	----	-------	-------	----	-------	-------	-------	-------

Dénombrer des collections de 20 à 39

Nombres et calculs

2. Gigi la magicienne a fait apparaître des abeilles, mais elle ne sait plus combien.

Aide-la à les compter et complète.



Dizaines	Unités



..... + + + =



Construire des collections entre 20 et 39

Nombres et calculs

3. Voici le nombre de boules de neige faites par Archi.

	
Dizaines	Unités
2	5

$$10 + 10 + 5 = 25$$



Dessine les boules de neige.

Comparer les nombres jusqu'à 39

Nombres et calculs

4.  Colorie le plus grand nombre.

12	8
----	---

$20 + 5$	$30 + 1$
----------	----------

$10 + 10 + 4$	$10 + 10 + 3$
---------------	---------------

$10 + 8$	$20 + 1$
----------	----------

Compléter à la dizaine supérieure

Nombres et calculs

5.  Utilise une étiquette de chaque couleur pour compléter les calculs.

17	19	22	4	35
5	6	1	8	3

..... + = 20

..... + = 20

..... + = 30

..... + = 40


..... + = 10



Reconnaître des solides

Espace et géométrie

6. Relie.




Pyramide	Boule	Pavé	Cône
----------	-------	------	------

Reconnaître des formes géométriques

Espace et géométrie

7. Entoure en **rouge** les **carrés**, en **bleu** les **rectangles**, en **vert** les **cercles** et en noir les triangles.

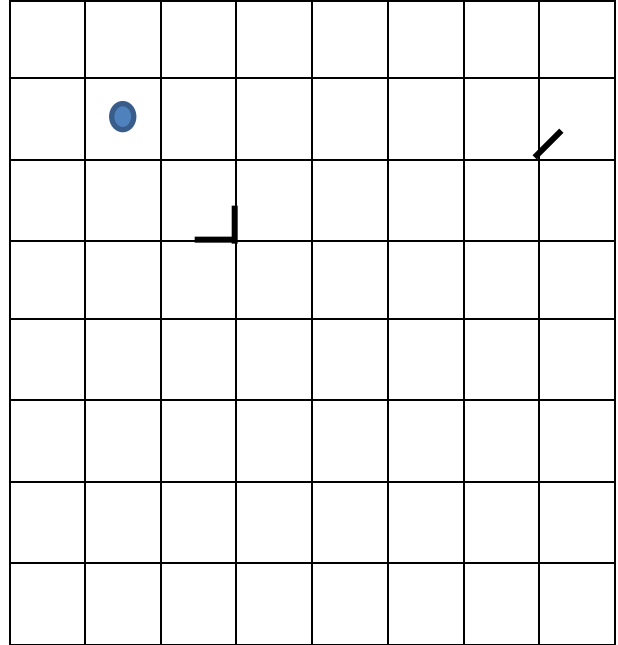
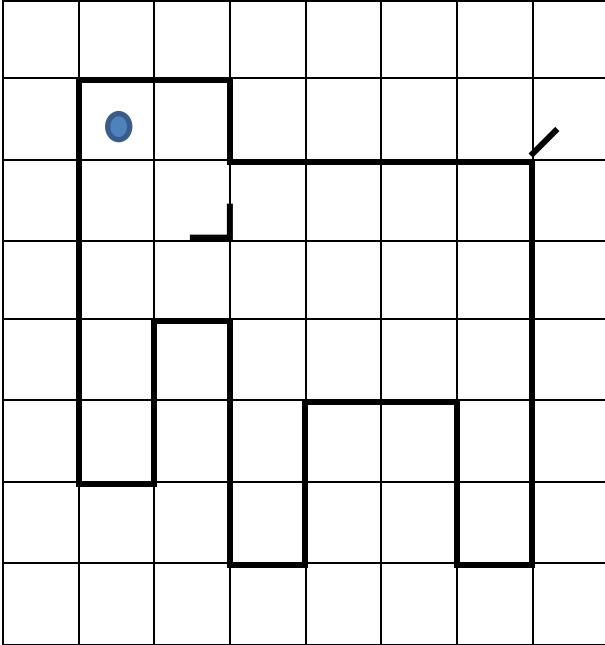




Reproduire une figure sur un quadrillage

Espace et géométrie

8. Reproduis le dessin de l'ami d'Archi avec ta règle.



Connaître les doubles

Nombres et calculs

9. Dessine le double puis complète.

	→	 est le double de 5
	→	 est le double de 8
	→	 est le double de